




# 1. VEERINGLUS MAAL


1. JOONISTA SIIA MAAKERA. LISA PILDILE : JÄRV, OOKEAN, MAISMAA, SAAR, JÕGI.



2. NIMETA 4 OOKEANI.

.....

3. JOONISTA SIIA NOOLTE ABIL KUIDAS TOIMUB VEERINGLUS LOODUSES.



4. LISAÜLESANNE. MÕISTA, MÕISTA MIS SEE ON? ÜHENDA JOONEGA PILT JA MÕISTATUS.

LIIVATERA KANNAB, MAJA EI KANNA.

SUUR KATEL ILMA KAANETA.

ÕUES MÄENA, TOAS VEENA.

HÕBE JOON MÖÖDA MAAD.


IGAVENE TÜNNIKENE,  
POOLEAASTANE KAANEKENE.





## 2. ÜLEMISTE JÄRV

1. LAHENDA RISTSÕNA. KIRJUTA RUUTUDESSE 7 PEAMIST ÜLEMISTE JÄRVES ELAVAT KALA. VASTUSEKS SAAD KOKKU LUGEDA MITMES JÄRV SUURUSELT ON EESTIS ÜLEMISTE JÄRV.



2. KIRJUTA SIIA MIS ON ÜLEMISTE JÄRVE ÄÄRES KEELATUD TEHA.

AUTOSID PESTA

ÜLEMISTE JÄRVE  
ÄÄRES ON KEELATUD

3. VASTA KÜSIMUSTELE.

MILLISEST KAHES VEEKOGUST SAAB ÜLEMISTE JÄRV PEAMISELT VETT?

.....

MITU MEETRIT ON ÜLEMISTE JÄRVE KESKMINE SÜGAVUS?

.....

KUI SUUR ON ÜLEMISTE JÄRVE PINDALA?

.....

MIS SAJANDIL SAI ÜLEMISTE JÄRV TALLINNA INIMESTELE JOOGIVEEALLIKAKS?

.....





### 3. VEEPUHASTUSJAAM

1. VASTA KÜSIMUSTELE.

KUI KAUA VÕTAB UMBES AEGA VEEPUHASTAMINE ÜLEMISTE VEEPUHASTUSJAAMAS?

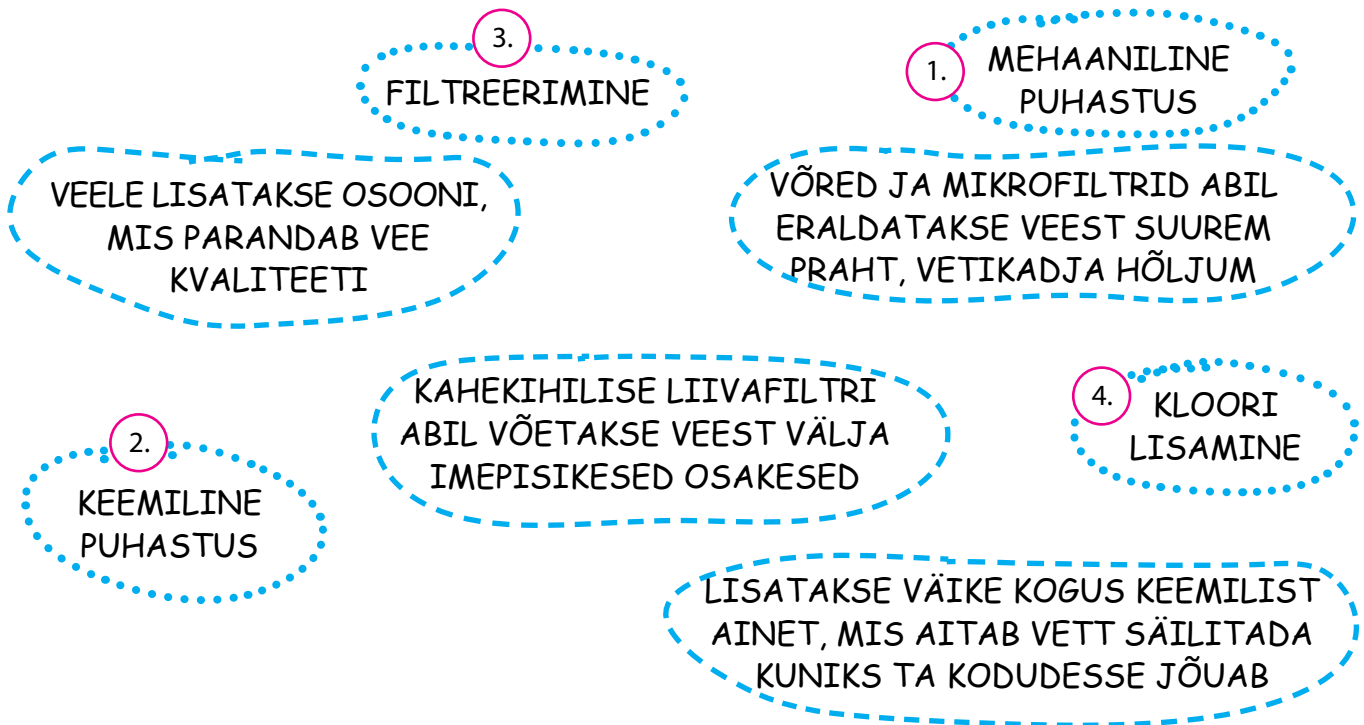
.....

MIDA VÕIB ENDAGA KAASA TUUA PUHASTAMATA JA KONTROLLIMATA VEE TARBIMINE?

.....

.....

2. VEE PUHASTAMISEL ON 4 PÕHIETAPPI. PALUN VII KOKKU ETAPI NIMETUS NING SELLE ISELOOMUSTUS.



3. TÄIDA LÜNGAD!

EESTI AINUS VEDEL MAAVARA ON ..... VANASTI TÖÖTASID LINNADES  
....., KES HOBUSTEGA INIMESTELE VETT VEDASID. .... PEAB  
OLEME TERVISELE OHUTU. AS TALLINNA VESI TEEB UMBES ..... VEEANALÜÜSI  
PÄEVAS. ESIMENE VEEPUHASTUSJAAM EHITATI ÜLEMISTELE AASTAL .....  
VEE PUHASTAMISEL ON ..... PÕHIETAPPI. INIMESTE ARV MAAILMAS .....  
SEE AGA TÄHENDAB, ET VEEVARUD INIMESE KOHTA .....

SÕNAD: 1927, PÕHJAVESI, VEEVEDAJAD, KASVAB, VESI, VÄHENEV, 4, 100




## 4. PUHTA VEE TORUSTIK

1. TÕMBA ÕIGELE VASTUSELE RING ÜMBER.

- \* MILLE MOODUSTAVAD KOKKU ERISUGUSED JOOGIVEETORUD? KANALIVÕRGU / VEEVÕRGU / VEERINGLUSE
- \* MITU KM JOOGIVEETORUSTIKKU LOOKLEB TALLINNAS? 250 KM / 500 KM / 1000 KM
- \* MITU KM JOOGIVEETORUSTIKKU LOOKLEB TARTUS? 150 KM / 250 KM / 500 KM
- \* MIS MATERJALIST EHITATI ESIMESED VEETORUD? MALMIST / PUIDUST / PLASTMASSIST
- \* KUST SAAVAD TULETÕRJUJAD LINNAST KIIRESTI VETT KUSTUTAMISEKS? JÄRVEST / MEREST / HÜDRANDIST



2. KIRJUTA PILDIL ALLA, MIS TORUTÜÜBIGA ON TEGEMIST?



.....


3. TOO NÄITEID KUIDAS SAAB VEETORUSTIKKE HOOLDADA.

.....

.....

.....

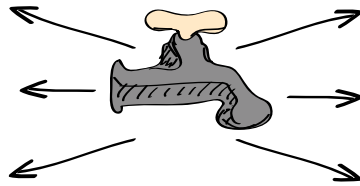
4. MILLINE MAJA SAAB JOOGIVETT?





## 5. VESI KODUS

1. MILLE JAOKS SINA OMA KODUS VETT KASUTAD?



2. SIIN ON MÕNED FAKTID VEE KOHTA. VÄRVI VALED LAUSEPALLID PUNASEKS.

MEREVESI EI TEKITA  
JOOGIJANU

ÖÖPÄEVAS SOOVITATAKSE  
JUUA KUNI 2 LIITRIT VETT

1 LIITER VETT KAALUB  
TÄPSELT 3 KILO

KIVID EI SISALDA VETT

INIMESE KEHAST  
MOODUSTAB  
UMBES 30% VESI

MEREVEEST SAAB TOOTA KA  
MAGEDAT JA PUHAST VETT

VEE TARBIMINE  
AASTATEGA SUURENEB

VEESÄÄSTMISEGA SÄÄSTAD  
KA KESKKONDA


EESTIS ON SUURED  
VEEVARUD

ILMA VEETA SAAB  
INIMENE ELADA 3 KUUD


MAAILMAS TARBITAKSE  
MAGEVETT KÕIGE ROHKEM  
PÕLLUMAJANDUSES

KODUS KULUB VETT  
KÕIGE ROHKEM VANNIS

3. MITU KALA ON PILDIL?



SIIN ON  
.....  
KALA.



4. KUIDAS SINA KODUS VETT SÄÄSTAD?

.....

.....

.....





# 6. KANALISATSIOONITORUSTIK

1. JOONISTA SIIA ASJU MIDA EI TOHI WC-POTTI VISATA.



2. VASTA KÜSIMUSTELE.

MIS ON SADEVESI?

.....

MIDA TEEB SURVEPESUAUTO?

.....

MIKS TORUSTIKKE FILMITAKSE?

.....

3. MIDA OLEKS VÕIMALIK TEHA VANADE JA KASUTATUD ASJADEGA?



VANAPABER

.....  
.....  
.....



KLAASPUDEL

.....  
.....  
.....



TETRAPAKID

.....  
.....  
.....



RIIDED

.....  
.....  
.....





## 7. REOVEEPUHASTUSJAAM

1. VASTA KÜSIMUSTELE.

KUI KAUA VÕTAB UMBES AEGA VEE PUHASTAMINE ÜLEMISTE VEEPUHASTUSJAAMAS?

.....

ISELOOMUSTA REOVETT (VÄRVUS, LÕHN). MIKS SEDA PUHASTAMA PEAB?

.....

.....


MIS ON KASVUMULD? KUS SEDA KASUTADA TOHIB?

.....

.....

.....

3. KLEEBI SIIA PILDID ÕIGES JÄRJEKORRAS. PILDID LEIAD LISA TÖÖLEHETL.

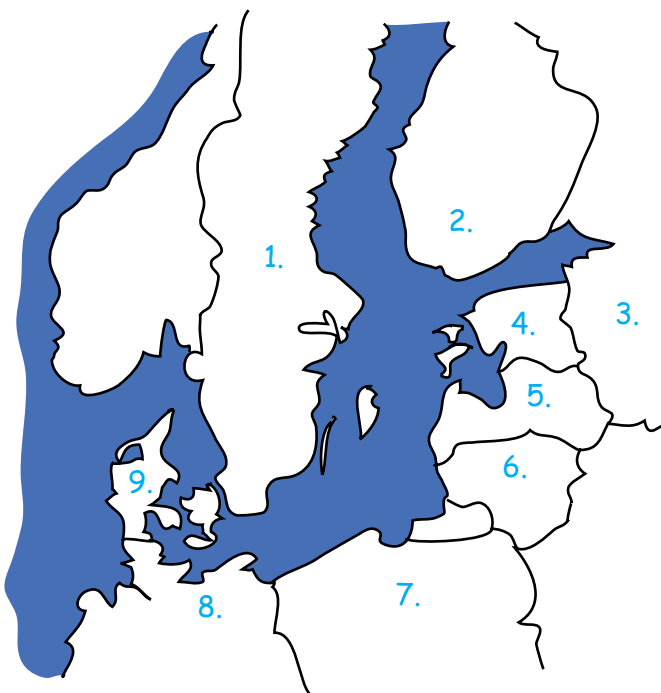




# 8. MERI

1. VAATA PILTI JA KIRJUTA MIS RIIGID ASUVAD LÄÄNEMERE KALDAL.

1. ....
2. ....
3. ....
4. ....
5. ....
6. ....
7. ....
8. ....
9. ....



2. KELLE KODUKS ON LÄÄNEMERI? NIMETA VÄHEMALT KOLM.

LINNUD: .....

KALAD: .....

IMETAJAD: .....

TAIMED: .....

2. PILDIL ON NÄHA KUST TALLINNA INIMESED ENDALE VETT SAAVAD NING KUHU NENDE KANALISATSIOON LÄHEB. KIRJUTA IGA NUMBRI TAHA MILLEGA ON TEGEMIST.

- ..... LINN
- ..... KANALISATSIOON
- ..... REOVEPUHASTUSJAAM
- ..... MERI
- ..... ÜLEMISTE JÄRV
- ..... VEETORUD
- ..... VEEPUHASTUSJAAM








# LISA TÖÖLEHT. TEE ISE KATSEID!

1. TÄIDA ANUM VEEGA. ASETA VETTE ERINEVAID ASJU: PUUOKS, KIVI, SULG, PABER, SENDID, PUULEHT, KORK JMS. NEED MIS VEPPINNALE JÄÄVAD ON VEEST KERGEMAD. NEED ASJAD MIS PÕHJA VAJUVAJAD ON VEEST RASKEMAD.



2. VÕTA 4 KLAASI NING TÄIDA NEED VEEGA. ÜHTE KLAASI LISA SOOLA, TEISE KLAASI SUHKRUT. KOLMANDASSE KLAASI PIGISTA NATUKENE SIDRUNIMAHLA NING NELJASSE KLAASI JÄTA LIHTSALT KRAANIVESI. NÜÜD MAITSE KÕRREGA KÕIKIDES KLAASIDES OLEVAT VETT. MIS MAITSET TUNNED?

3. KUIDAS TEKITADA PILVE. VALA PUDELI PÕHJA KUUMA VETT. ASETA JÄÄKUUBIK PUDELISUULE. PILV TEKIB PUDELI SISSE. SEDA ON PAREM JÄLGIDA TASKULAMBIGA PIMEDAS TOAS.

4. KUHU VESI KAOB? VALA KLAASI VETT JA TÕMBA VEEPIIRILE PLIATSIGA JOON. PANE KLAAS KUSKILE SOOJEMASSE KOHTA SEISMA. NÄDALA PÄRAST VAATA KLAASI UUESI. ON NÄHA ET VETT ON VÄHEMAKS JÄÄNUD. SOOJUSEGA AURAB VESI ÕHKU.

5. LILL MUUDAB VÄRVI. ASETA VEEGA TÄIDETUD LILLEVAASI ÜKS LILL (KÕIGE SOBIVAM OLEKS VALGET VÄRVI TULP, NARTSISS VÕI NELK). LISA VETTE KA SINIST TINTI. JUBA PAARI PÄEVA PÄRAST NÄED, ET VALGE LILL ON MUUTUNUD SINISEKS. MIKS SEE KÜLL NII ON?



JÄRELSETITI



SETTESEGAMISVÄLJAKUD



EELSETITI



JÄRELSETITI



VASTUVÕTURESER-  
VUAAR



LIIVAPÜÜDJA



SEGATUD  
SETTE LADU



SETTE  
TAHENDUS



AEROTANK



METAANTANK



PRAHIVÕRE

